

**ŠKOLSKO/OPĆINSKO/GRADSKO NATJECANJE IZ GEOGRAFIJE
2018. GODINE**

Razred ili kategorija natjecanja: **6. razred**

Zaporka

--	--	--	--	--

Broj postignutih bodova ____ / 70

Potpis članova Školskog povjerenstva

1. _____

2. _____

3. _____

Mjesto i nadnevak: _____

Za rješavanje zadataka predviđeno je 60 minuta.

Ispit se rješava kemijskom olovkom s plavom tintom koja se ne briše. Uporaba obične olovke i crvene ili neke druge boje tinte (osim plave) rezultira diskvalifikacijom učenika.

Pri rješavanju ispita treba primijeniti jezičnu normu standardnoga hrvatskoga jezika, posebice treba poštivati pravopisna pravila o pisanju velikoga i maloga početnog slova geografskih imena. Za pisanje geografskih imena u ispitima i praktičnim radovima primjenjuje se Hrvatski pravopis Instituta za hrvatski jezik i jezikoslovlje (2013.).

Odgovori učenika moraju biti čitljivo napisani pisanim slovima, jedino u zadacima u kojima je odgovor jedno slovo dopuštena je uporaba čitljivo napisanog velikog tiskanog slova.

Za vrijeme pisanja ispita ne smije se koristiti ništa osim navedenoga pribora za pisanje. Ova odredba podrazumijeva da natjecatelji ne smiju kod sebe (na sebi, ispod, u svojoj odjeći i slično) imati predmete koji na bilo koji način mogu dovesti u sumnju pravilno provođenje natjecanja. Učenici se ne smiju služiti atlasom, zidnom kartom ni računalom. Kartografski i grafički prilozi nužni za rješavanje zadataka sastavni su dio ispita.

Učenicima se dopušta pisanje po marginama i praznim stranicama ispitnog materijala bez oduzimanja bodova i/ili diskvalifikacije.

Potpuno ispravno riješeni zadatci, prema uputi za rješavanje vrednuju se s jednim, dva ili tri boda. U djelomično ispravno riješenim zadacima boduju se ispravno riješene čestice, ako nije bilo korekcije odgovora u tim česticama. Netočno riješeni zadatci i naknadno ispravljeni odgovori te odgovori koji su pisani velikim tiskanim slovima ili kombinacijom tiskanih i pisanih slova, kao i odgovori u zagradama ne vrednuju se.

**U PRVA TRI ZADATKA SAMO JE JEDAN ODGOVOR TOČAN. ZAOKRUŽI SLOVO
ISPRED TOČNOG ODGOVORA.**

1	
---	--

1. Koja je od navedenih država zadnja pristupila NATO savezu?

- a) Albanija b) Bugarska c) Crna Gora d) Hrvatska

1	
---	--

2. Koja se od navedenih država cijelom površinom nalazi samo na jednom kontinentu?

- a) Gruzija b) Izrael c) Kazahstan d) Turska

1	
---	--

3. Koji od navedenih kontinenata prema posljednjim podacima ima najmanju prosječnu naseljenost?

- a) Afrika b) Australija c) Azija d) Europa

U SLJEDEĆA ČETIRI ZADATKA DOPUNI REČENICE.

1	
---	--

4. Pružanjem nekog prostora unutar geografske mreže određuje se geografski

_____.

2	
---	--

5. Ime jedine azijske države članice G7 je _____, a naziv sektora djelatnosti u kojemu je danas zaposlen najmanji udio stanovnika te države je

_____ sektor.

2	
---	--

6. Ime visoravni koja zauzima središnji dio Male Azije je _____, a ime države u kojoj se ta visoravan nalazi je _____.

2	
---	--

7. Jugozapadni vjetar koji ljeti donosi padaline Južnoj, Jugoistočnoj i Istočnoj Aziji naziva se _____, a snažni vrtložni vjetar koji nastaje iznad zagrijanog mora u zapadnom Pacifiku naziva se _____.

**SLJEDEĆA DVA ZADATKA RIJEŠI UZ POMOĆ KRUŽNOG DIJAGRAMA DANAŠNJIH
UDJELA VELIKIH TE OSTALIH RELIGIJA I ATEISTA U SVIJETU. U TRI ISJEČKA NE
SMIJU BITI UPISANA SLOVA.**

2	
---	--

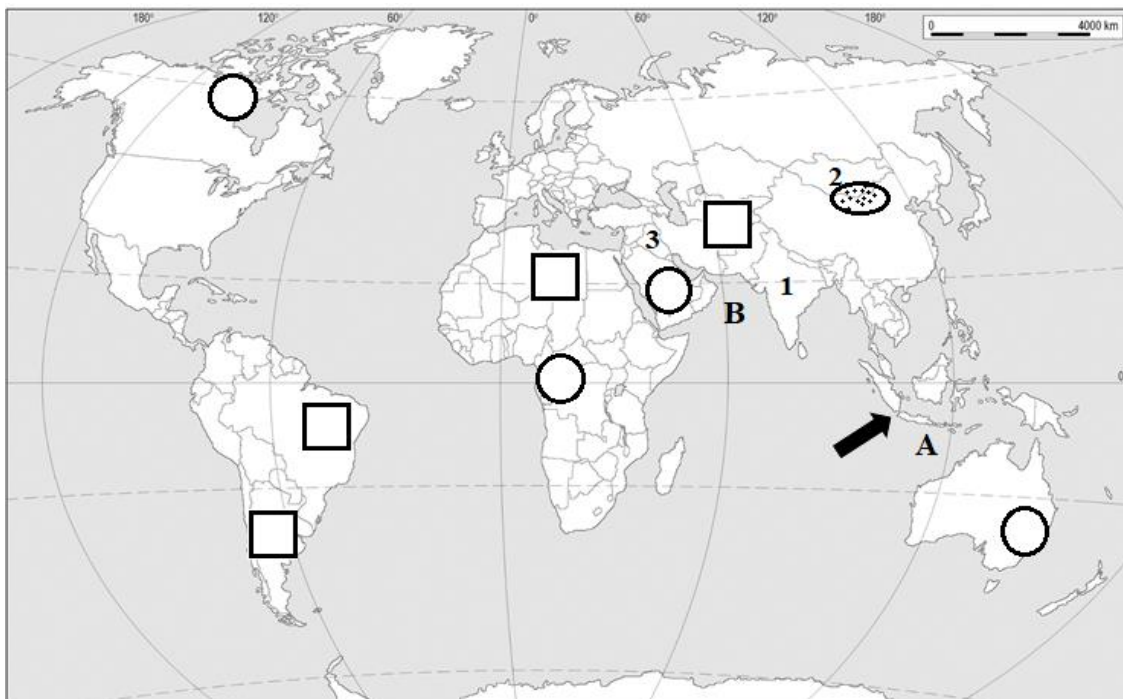
8. Slovo **A** upiši u isječak kruga koji se odnosi na religiju nastalu na Arapskom poluotoku u 7. st. Naziv te religije je _____. Slovo **B** upiši u isječak kruga koji se odnosi na religiju čije je svetište grad Mandalay. Naziv te svjetske religije je _____.



1	
---	--

9. Slovo **C** upiši u isječak kruga koji se odnosi na monoteističku religiju s najvećim brojem sljedbenika. Naziv te svjetske religije je _____.

SLJEDEĆIH ŠEST ZADATAKA RIJEŠI UZ POMOĆ PRILOŽENE KARTE SVIJETA. DVA KVADRATIĆA I DVA KRUŽIĆA MORAJU OSTATI NEISPUNJENA.



- | | |
|---|--|
| 2 | |
|---|--|

 10. Kvadratići označavaju govorna područja pojedinih jezika. Upiši slovo **Š** u kvadratić za španjolsko govorno područje, a slovo **A** u kvadratić za arapsko govorno područje.
- | | |
|---|--|
| 2 | |
|---|--|

 11. Kružići označavaju područja rasprostranjenosti pojedinih rasa na Zemlji. Upiši slovo **C** u kružić područja u kojemu prevladava crna rasa, a slovo **Ž** u kružić područja u kojemu prevladava žuta rasa.
- | | |
|---|--|
| 2 | |
|---|--|

 12. Sitnim točkicama i elipsom na karti označena je jedna pustinja, a njeno je ime _____ . S obzirom na veliku udaljenost od mora ta pustinja je nastala kao posljedica _____ (upisati odgovarajući pojam).
- | | |
|---|--|
| 3 | |
|---|--|

 13. Brojevima su na karti označene azijske države. Imena država upiši na crte iza brojeva.
1 _____ 2 _____ 3 _____
- | | |
|---|--|
| 2 | |
|---|--|

 14. Ime prolaza koji je na karti označen crnom strelicom je _____ , a ime vulkana koji je erupirao u tom prolazu prije 135 godina je _____ .
- | | |
|---|--|
| 2 | |
|---|--|

 15. Ime mora koje je na karti označeno slovom **A** je _____ , a ime mora koje je na karti označeno slovom **B** je _____ .

U SLJEDEĆA DVA ZADATKA POVEŽI POJMOVE UPISIVANJEM PRIPADAJUĆEG SLOVA I BROJA NA CRTU ISPRED POJMOVA U LIJEVOM STUPCU. JEDAN POJAM IZ DESNOG STUPCA I JEDAN BROJ S KARTE TE JEDAN DIJAGRAM NE MOGU SE POVEZATI.

3

16. Poveži spomenike na Popisu svjetske baštine UNESCO-a s gradovima u kojima se nalaze i njihovim smještajem na karti.

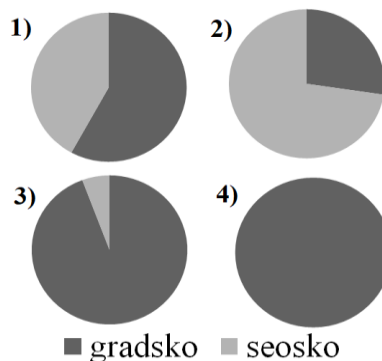
- | | |
|-----------------------------|------------|
| _____ Dioklecijanova palača | A) Poreč |
| _____ Eufrazijeva bazilika | B) Split |
| _____ katedrala sv. Jakova | C) Šibenik |
| | D) Zadar |



3

17. Poveži države s njihovima glavnim gradovima i udjelima gradskog i seoskog stanovništva prema podacima iz 2016. godine.

- | | |
|------------------|--------------|
| _____ Afganistan | A) Kabul |
| _____ Japan | B) Beijing |
| _____ Kina | C) Singapore |
| | D) Tokyo |

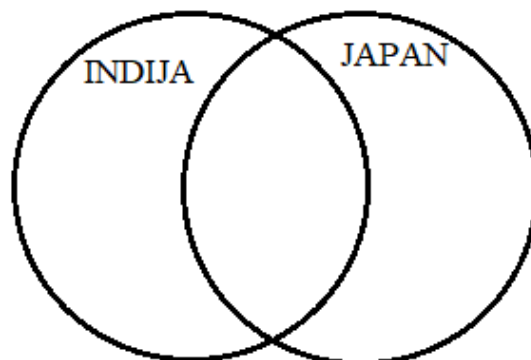


U SLJEDEĆEM ZADATKU RAZVRSTAJ POJMOVE PO DRŽAVAMA UPISIVANJEM SLOVA U ODGOVARAJUĆE DIJELOVE KRUGOVA. U SVAKI DIO POVEZANIH KRUGOVA MORAJU BITI UPISANA PO DVA SLOVA.

3

18. Navedene pojmove razvrstaj u države za koje su karakteristični.

- A - niska stopa rodnosti
- B - gusta naseljenost
- C - ljetni monsun
- D - veliki udio mladog stanovništva
- E - veliki udio zaposlenih u primarnom sektoru
- F - razvedena obala



SLJEDEĆIH SEDAM ZADATAKA RIJEŠI UZ POMOĆ PRILOŽENE KARTE AZIJE.

3 19. Slovima su označena azijska gorja, visoravni i planine. Na crte iza slova upiši njihova imena.

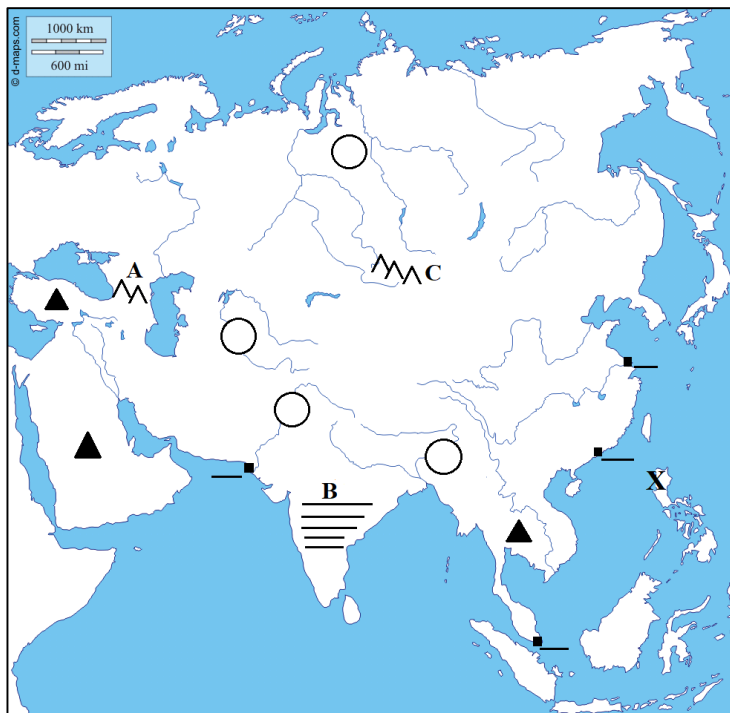
A _____

B _____

C _____

1 20. Reljefne cjeline iz prethodnog zadatka poredaj po starosti na način da na crte ispred slova upišeš brojeve od 1 - najstariji do 3 - najmlađi reljefni oblik.

___ A ___ B ___ C



2 21. Ime otoka označenog na karti znakom **X** je _____. U potpunosti kemijskom olovkom ispuni otok Šri Lanku.

2 22. Cijelom dužinom podebljaj tok treće (3.) po duljini rijeke na svijetu. Ime te rijeke je _____, a ime mora u koje se ulijeva ta rijeka je _____.

2 23. Crni trokutići na karti označavaju azijske poluotoke. Zaokruži crni trokutić koji se nalazi na području najvećeg poluotoka Jugozapadne Azije. Ime tog poluotoka je _____ (dva trokutića su višak). Naziv tipa klime koji je najrašireniji na tom poluotoku je _____.

2 24. Crni kvadratići na karti označavaju neke od najprometnijih azijskih pomorskih luka. Upiši slovo **M** na crtu uz kvadratić za luku koja je nastala uz Malajski prolaz. Ime te luke je _____. Upiši slovo **P** na crtu uz kvadratić za najvažniju pakistansku luku. Ime te luke je _____ (dva crna kvadratića su višak).

2 25. Prazni kružići označavaju nizine. Upiši slovo **D** u kružić koji se nalazi na području nizine smještene uz rijeku Brahmaputru. Ime te nizine je _____. Upiši slovo **E** u kružić koji se nalazi na području nizine kroz koju se protežu pustinje Kizilkum i Karakum. Ime te nizine je _____ (dva kružića su višak).

U SLJEDEĆIH PET ZADATAKA POVEŽI PAROVE UPISIVANJEM SLOVA NA CRTU ISPRED PONUĐENIH ODGOVORA. TRI CRTE MORAJU OSTATI PRAZNE.

2

26. Poveži države u kojima su sjedišta kompanija s markama poznatih proizvoda tih kompanija.

A) Japan

B) Južna Koreja

___ Iphone ___ Meizu ___ Samsung ___ Sony ___ Xiaomi

2

27. Poveži glavne gradove s nizinama u kojima se nalaze.

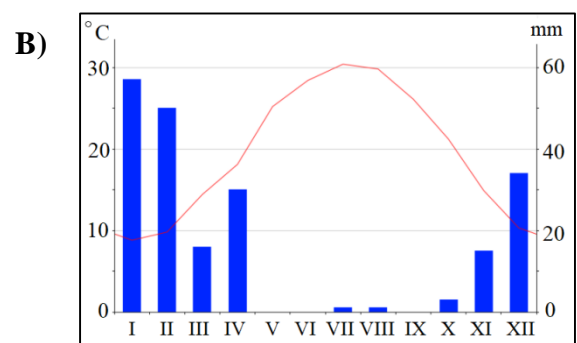
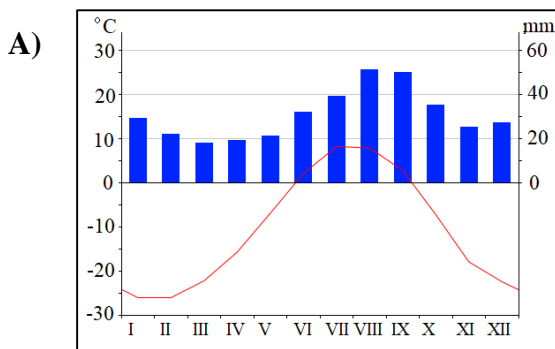
A) Bagdad

B) Dhaka

___ Assam ___ Bengalska nizina ___ Mezopotamija
___ Punjab ___ Velika kineska nizina

2

28. Poveži klimatske dijagrame s tipovima klime.



___ pustinjska ___ stepska ___ sredozemna ___ snježno-šumska ___ klima tundre

2

29. Poveži otoke s tipovima klime koji na njima prevladavaju.

A) Cipar

B) Shikoku

___ prašumska ___ savanska ___ sredozemna ___ stepska ___ umjereno topla vlažna


2

30. Poveži fotografije finansijskih četvrti s gradovima u kojima se nalaze.

A)



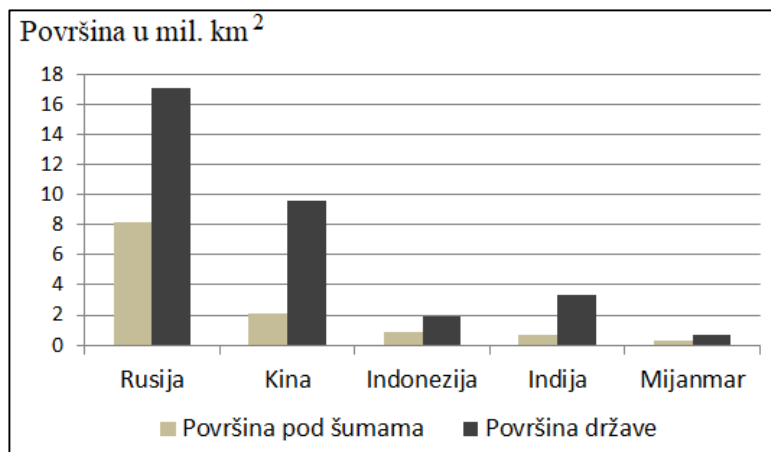
B)



___ Doha ___ Dubai ___ Mumbai ___ Singapore ___ Shanghai

SLJEDEĆA TRI ZADATKA RIJEŠI UZ POMOĆ PRILOŽENOG DIJAGRAMA AZIJSKIH DRŽAVA S NAJVEĆIM POVRŠINAMA ŠUMA U 2015. GODINI I POVRŠINOM NJIHOVOG TERITORIJA.

2 31. Ime države s najvećom površinom šuma je _____, a ime države u kojoj je 2015. godine pod šumama bilo 2 mil. km² je _____.

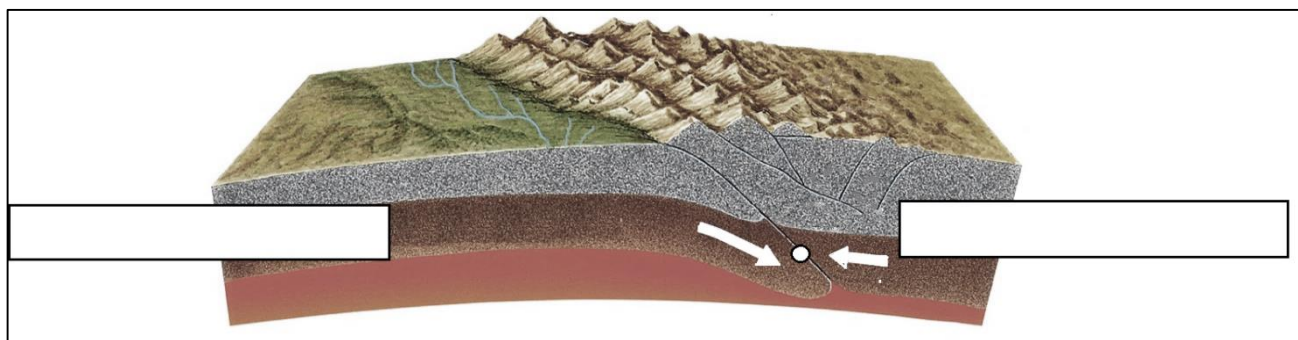


<http://www.fao.org/forest-resources-assessment/en/>

2 32. Od prikazanih, dvije države koje su imale najmanji udio šuma u ukupnoj površini njihovog teritorija su _____ i _____.

2 33. Ime države s najvećom površinom tropskih šuma je _____, a ime države u kojoj većina njenih šuma pripada šumskoj zajednici tajgi je _____.

SLJEDEĆI ZADATAK RIJEŠI UZ POMOĆ PRILOŽENE SKICE NASTANKA HIMALAJE.



3 34. U prazne pravokutnike upiši imena litosfernih ploča. Njihovim pomicanjem nastaju potresi, a bijeli kružić ucrtan na skici označava **hipocentar** / **epicentar** (zaokruži točan pojam).

U SLJEDEĆEM ZADATKU U PAROVIMA POJMOVA KOJI SU PODEBLJANI I ODVOJENI KOSIM CRTAMA ZAOKRUŽI ONE POJMOVE KOJI SU TOČNI.

2 35. Najmnogoljudniji kineski grad je **Beijing** / **Shanghai**. Kina je gusto naseljena, a gustoćom se posebno ističe **Uža Kina** / **Vanjska Kina**. Svoj gospodarski rast Kina je temeljila na **jeftinoj** / **visokoobrazovanoj** radnoj snazi. S obzirom na BDP po stanovniku, Kinu ubrajamo u **visokorazvijene** / **srednje razvijene** države.